



## INSTITUCION EDUCATIVA TECNICA "AMBIENTAL COMBEIMA"

Resolución de Reconocimiento No 00002530 del 26 de Octubre de 2016 de la  
Secretaría de Educación Municipal  
NIT. No. 809011406 – 9 DANE 273001004073

### GUÍA GENERAL DE TRABAJO GRADO 4°

**DOCENTE(S):** MILENA JULIETH PEREZ SANABRIA

**SEDE:** OLAYA HERRERA

**Asignatura:** Ciencias sociales

- **Estándar (s)** Me ubico en el entorno físico utilizando referentes espaciales (izquierda, derecha, puntos cardinales).
- Reconozco los diferentes usos que se le dan a la tierra y a los recursos naturales en mi entorno y en otros (parques naturales, ecoturismo, ganadería, agricultura...).

**Derecho Básico de Aprendizaje (o aprendizaje a desarrollar):** Según plan de área y por lo tanto, de aula: Comprende la importancia de los límites geográficos y el establecimiento de las fronteras en la organización de los territorios

**Tiempo estimado de trabajo para el estudiante (Horas):** 6 Horas

**Trabajo correspondiente a las fechas:** Desde: 21, 24 y 28 de abril de 2020

## CONOZCAMOS LA UBICACIÓN DE NUESTRO PAIS EN LA TIERRA

### 1. METODOLOGÍA:

Con la presente guía podrás desarrollar tus conocimientos sobre nuestro país, realizarás el reconocimiento de cada una de sus características y particularidades a nivel geográfico y de posición astronómica. Llevarás a cabo la delimitación de sus fronteras con los demás países haciendo uso de los mapas para reconocer la ubicación en el planeta. Deberás leer detenidamente el material informativo, entender lo enunciados y seguir las instrucciones de las actividades de aplicación y valoración.

### 2. EXPLORACIÓN:

¿Qué sabes de Colombia?

---

---

---

---

---

---

---

---

---

---

Observa la siguiente imagen y contesta las siguientes preguntas:

- ¿En qué continente está ubicado nuestro país? \_\_\_\_\_
- ¿En qué parte de ese continente se encuentra? Colorea la respuesta

Al norte	En el centro	Al sur
----------	--------------	--------



## INSTITUCION EDUCATIVA TECNICA "AMBIENTAL COMBEIMA"

Resolución de Reconocimiento No 00002530 del 26 de Octubre de 2016 de la  
Secretaría de Educación Municipal  
NIT. No. 809011406 – 9 DANE 273001004073



Ubícate en la línea del **Ecuador** o paralelo  $0^\circ$ , hacia la parte superior se encuentra el hemisferio norte, señala en el mapa este hemisferio; desde la línea del Ecuador hacia la parte inferior encontramos el hemisferio sur, también señálalo con lápiz. Luego contesta:

- ¿Dónde hay más tierra firme, en el hemisferio norte o en el hemisferio sur?

\_\_\_\_\_

-¿Dónde se encuentra la mayor parte del territorio de nuestro país en el hemisferio norte o en el hemisferio sur? \_\_\_\_\_

Ahora, ubica el paralelo  $0^\circ$  o paralelo de **Greenwich** que está en la parte superior del mapa y divide la tierra en hemisferio oriental (a la derecha del meridiano  $0^\circ$ ) y hemisferio occidental (a la izquierda del meridiano  $0^\circ$ ) señálalos en el mapa. Responde:

-¿Dónde se encuentra ubicado el continente americano: en el hemisferio oriental o en el hemisferio occidental? \_\_\_\_\_

Ahora observa el mapa de **América del sur** o **Suramérica**, coloréalo ubica cada país con su capital.

## AMÉRICA DEL SUR



## INSTITUCION EDUCATIVA TECNICA "AMBIENTAL COMBEIMA"

Resolución de Reconocimiento No 00002530 del 26 de Octubre de 2016 de la  
Secretaría de Educación Municipal  
NIT. No. 809011406 – 9 DANE 273001004073



Contesta:

- ¿Cuántos países conforman América del sur? \_\_\_\_\_

- ¿Cuáles son los países más grandes de este continente?

\_\_\_\_\_

- ¿Cuáles son los países más pequeños?

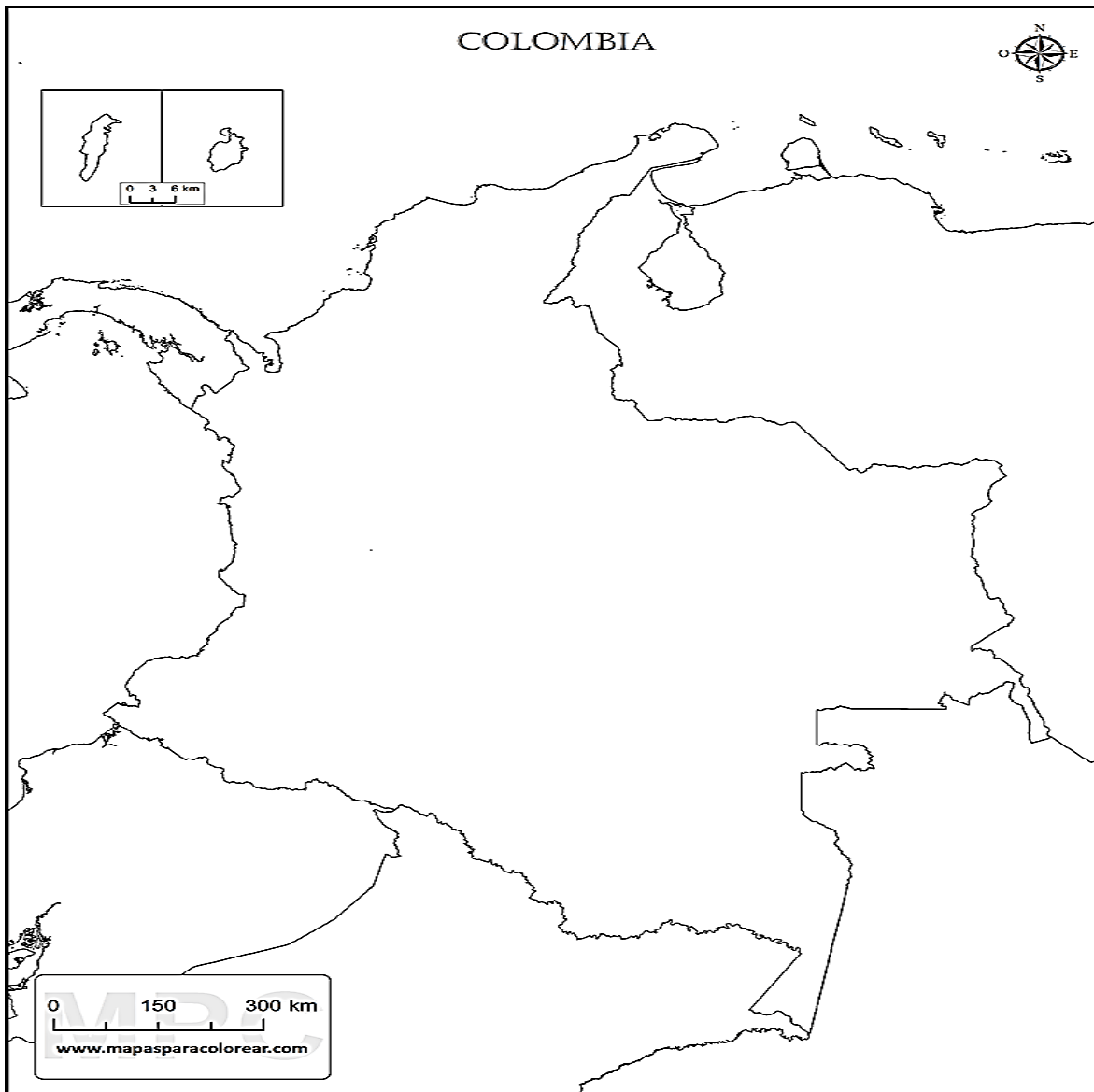
\_\_\_\_\_

Teniendo en cuenta el mapa de Suramérica ubica en el siguiente croquis de Colombia el nombre de los océanos y países que están alrededor.



## INSTITUCION EDUCATIVA TECNICA "AMBIENTAL COMBEIMA"

Resolución de Reconocimiento No 00002530 del 26 de Octubre de 2016 de la  
Secretaría de Educación Municipal  
NIT. No. 809011406 – 9 DANE 273001004073



### 3. ESTRUCTURACIÓN:

La República de Colombia se encuentra en el noroeste de América del Sur. Su superficie es 1.141.748 km<sup>2</sup>, sus costas miden 3.208 km y sus fronteras más de 6.000 km. La capital de Colombia es Bogotá, el idioma mayoritario el español, aunque se hablan lenguas indígenas que son oficiales en su región, la moneda es el peso colombiano y el huso horario



## INSTITUCION EDUCATIVA TECNICA "AMBIENTAL COMBEIMA"

Resolución de Reconocimiento No 00002530 del 26 de Octubre de 2016 de la  
Secretaría de Educación Municipal  
NIT. No. 809011406 - 9 DANE 273001004073

# Situación Geográfica

- ☺ Colombia está situada en la esquina Noroccidental de Suramérica.
- ☺ Tiene costas en los océanos Pacífico y Atlántico.
- ☺ Sus límites son:
  - ☺ **Al Norte:** Océano Atlántico o Mar Caribe.
  - ☺ **Al Sur:** Ecuador y Perú.
  - ☺ **Al Oriente:** Venezuela y Brasil.
  - ☺ **Al Occidente:** Océano Pacífico y Panamá.

Área: 1,141,784 Km<sup>2</sup>  
Ocupa el 7° lugar  
en América

¡Colombia es una  
nación  
independiente!





## INSTITUCION EDUCATIVA TECNICA "AMBIENTAL COMBEIMA"

Resolución de Reconocimiento No 00002530 del 26 de Octubre de 2016 de la  
Secretaría de Educación Municipal  
NIT. No. 809011406 – 9 DANE 273001004073

# Ubicación Astronómica

- ☺ Colombia se encuentra atravesada por el **paralelo del Ecuador**.
- ☺ La mayor parte del territorio está en los **hemisferios norte y occidental**.
- ☺ Los puntos extremos del territorio colombiano son:
  - **Al Norte:** Punta Gallinas, en La Guajira.
  - **Al Sur:** Quebrada de San Antonio, en el Rio Amazonas.
  - **Al Oriente:** Piedra del Cocuy, en el río Guainía o Negro.
  - **Al Occidente:** Cabo Manglares, cerca a la desembocadura del río Mira.

Debido a la posición astronómica, Colombia presenta las siguientes situaciones:

Se encuentra en latitudes bajas, por esto recibe los rayos solares en forma directa durante todo el año.

Está en el hemisferio Occidental a 5 horas de diferencia con respecto al Meridiano de Greenwich.

La temperatura varía poco a lo largo del año.

El día y la noche presentan igual duración todo el año.



#### 4. TRANSFERENCIA:

En el cuaderno de ciencias sociales vas a dibujar el croquis de Colombia, ubicas los puntos extremos del territorio y los límites.

Lee la siguiente información y completa la tabla



## INSTITUCION EDUCATIVA TECNICA "AMBIENTAL COMBEIMA"

Resolución de Reconocimiento No 00002530 del 26 de Octubre de 2016 de la  
Secretaría de Educación Municipal  
NIT. No. 809011406 – 9 DANE 273001004073

VENTAJAS	DESVENTAJAS
<p><b>Colombia cuenta con una posición geográfica estratégica en América. Por una parte, es un punto de enlace entre los países del norte y del sur y, por otra, posee amplias costas sobre los océanos Atlántico y Pacífico. Dicha ubicación le permite ser la puerta de entrada a América del Sur y disponer de puertos hacia el resto de América, Europa y los países de la Cuenca del Pacífico.</b></p>	
<p><b>Además, su localización en la zona ecuatorial determina la existencia de una gran variedad de climas y ecosistemas. Debido a que la línea del ecuador atraviesa el país por el sur, toda Colombia queda en la zona tórrida o intertropical lo que ocasiona que cuente con</b></p>	
<p><b>la misma iluminación solar todo el año, así como, los días y las noches cuentan con igual duración.</b></p>	
<p><b>Los rayos del Sol caen siempre con la misma verticalidad, de modo que no hay estaciones, por lo que se distinguen únicamente un invierno lluvioso y un verano seco. Este mismo suceso, ocasiona que se puedan obtener dos cosechas anualmente.</b></p>	
<p><b>La cercanía del canal de Panamá, la circunstancia de ser paso y escala de las principales líneas aéreas del continente y el establecimiento de puertos en las costas oceánicas dan a Colombia gran importancia estratégica para las comunicaciones y el comercio. Además, por los ríos internacionales Amazonas y Orinoco transitan barcos comerciales; Su situación presenta posibilidades para la construcción de nuevos canales interoceánicos, si se aprovechan el Atrato y otros ríos del Chocó.</b></p>	
<p><b>Tanto por aire como por mar, el país recibe anualmente la visita turística, comercial, deportiva, diplomática y científica de miles de viajeros de los países amigos. Las hermosas ciudades colombianas sirven de magnífico marco a importantes acontecimientos internacionales.</b></p>	

Pregúntales a tus padres:

¿Por qué es importante tener vecinos?

---

---

¿Cuáles son las cualidades de un buen vecino?

---

---

¿Por qué son importante las fronteras entre países?

---

---

¿Qué ventajas o desventajas en general, puede tener nuestro país al tener fronteras con Venezuela, Panamá, Perú, Ecuador y Brasil?

---

---



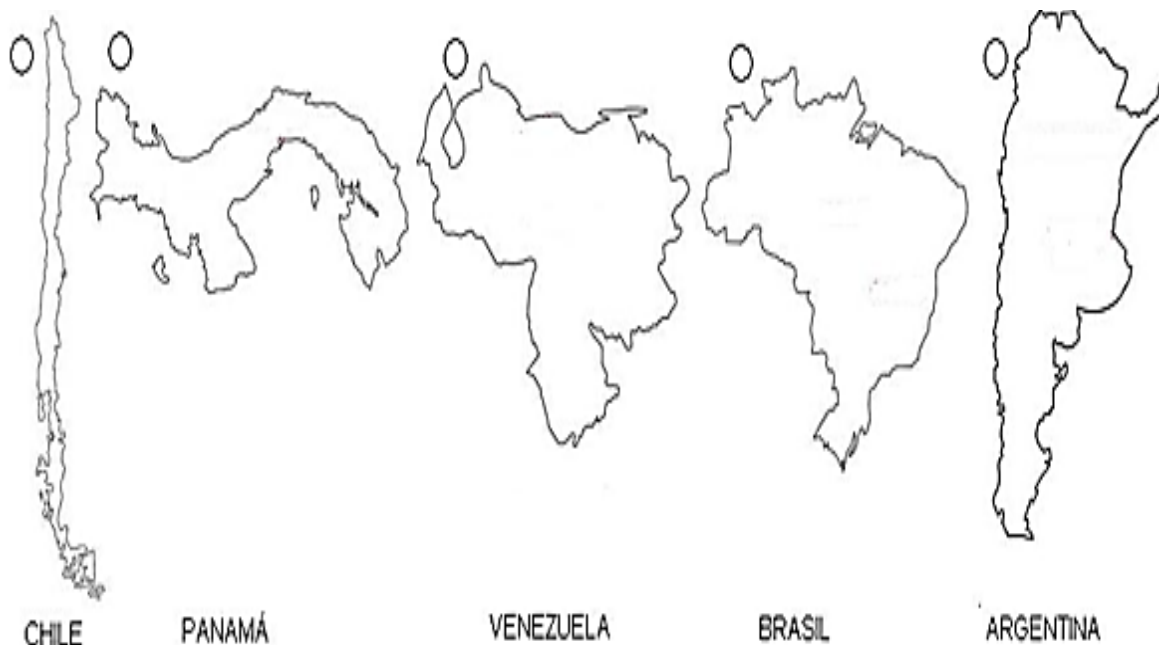
## INSTITUCION EDUCATIVA TECNICA "AMBIENTAL COMBEIMA"

Resolución de Reconocimiento No 00002530 del 26 de Octubre de 2016 de la  
Secretaría de Educación Municipal  
NIT. No. 809011406 – 9 DANE 273001004073

Menciona una ventaja y una desventaja para Colombia, de la crisis de Venezuela

VENTAJA	DESVENTAJA

Rellena el círculo de los países que tiene límites con Colombia, luego coloréalos.







## INSTITUCION EDUCATIVA TECNICA "AMBIENTAL COMBEIMA"

Resolución de Reconocimiento No 00002530 del 26 de Octubre de 2016 de la  
Secretaría de Educación Municipal  
NIT. No. 809011406 – 9 DANE 273001004073

### 5. VALORACIÓN:

¿Cómo lo he hecho?
¿Qué cosas he hecho bien?
¿Qué cosas podría haber hecho mejor?
¿Qué voy a hacer diferente la próxima vez?

### REFERENCIAS

[https://es.slideshare.net/mdaniela\\_vega/atlas-de-colombia](https://es.slideshare.net/mdaniela_vega/atlas-de-colombia)

<https://geografia.laguia2000.com/geografia-regional/america/colombia-generalidades>

<https://es.calameo.com/read/003967224e83aca0201c8>



## INSTITUCION EDUCATIVA TECNICA "AMBIENTAL COMBEIMA"

Resolución de Reconocimiento No 00002530 del 26 de Octubre de 2016 de la  
Secretaría de Educación Municipal  
NIT. No. 809011406 – 9 DANE 273001004073

### GUÍA GENERAL DE TRABAJO GRADO 4°

**DOCENTE(S):** MILENA JULIETH PEREZ SANABRIA

**SEDE:** OLAYA HERRERA

**Asignatura:** Ciencias sociales

- **Estándar (s)** Me ubico en el entorno físico utilizando referentes espaciales (izquierda, derecha, puntos cardinales).
- Reconozco los diferentes usos que se le dan a la tierra y a los recursos naturales en mi entorno y en otros (parques naturales, ecoturismo, ganadería, agricultura...).

**Derecho Básico de Aprendizaje (o aprendizaje a desarrollar): Según plan de área y por lo tanto, de aula:** Comprende la importancia de los límites geográficos y el establecimiento de las fronteras en la organización de los territorios

**Tiempo estimado de trabajo para el estudiante (Horas):** 6 Horas

**Trabajo correspondiente a las fechas:** Desde: 5 Y 8 de mayo de 2020.

## RELIEVE E HIDROGRAFÍA DE COLOMBIA

### 1. METODOLOGÍA:

La presente guía te llevará a explorar las diferentes particularidades del relieve y la hidrografía colombiana. Te aclarará los conocimientos sobre las diferentes formas de relieve y te mencionará cuáles son los principales en el país, será un recorrido por el entorno y la diversidad. Será necesario hacer uso de la indagación a personas del entorno familiar para conocer sus apreciaciones e ideas. Deberás realizar una lectura atenta, siguiendo las instrucciones y las recomendaciones de los enunciados.

### 2. EXPLORACIÓN:

Observo los siguientes mapas y contesto las preguntas



- ¿Por qué se ven diferentes? Identifico los elementos comunes en ambos mapas

---

---

- ¿Cuál de los dos mapas contiene más elementos y cuál muestra más detallado el relieve?

---

---

- ¿Para que cree que le sirve un mapa o un plano a las siguientes personas? Responde en tu cuaderno.

**Estudiante, arquitecto, mensajero, piloto, profesor y marino.**

### 3. ESTRUCTURACIÓN:



## INSTITUCION EDUCATIVA TECNICA "AMBIENTAL COMBEIMA"

Resolución de Reconocimiento No 00002530 del 26 de Octubre de 2016 de la  
Secretaría de Educación Municipal  
NIT. No. 809011406 – 9 DANE 273001004073



### COLOMBIA SU RELIEVE Y SU HIDROGRAFÍA

El conjunto del relieve integra el conjunto de las formas que se hallan en la superficie terrestre, como montañas, valles, llanuras y mesetas.

Las formas del relieve no surgieron de un día para otro. Su formación es un proceso que ha durado millones de años. En este proceso han actuado fuerzas internas y externas.

El relieve de Colombia se puede dividir en tres zonas: el sistema montañoso, el relieve periférico y las tierras planas y llanuras.

Se afirma, que Colombia es un país privilegiado por la naturaleza, gracias, entre otras cosas, a su riqueza hidrológica. En nuestro país se cuenta con gran diversidad de recursos hídricos. Estos incluyen los océanos, lagunas, manantiales, ríos, ciénagas, quebradas, cataratas, humedales y hasta los casquetes glaciares que cubren las partes más altas de algunas montañas.

Colombia es el único país de Suramérica con costas en ambos océanos, lo cual genera grandes riquezas marinas. La costa del Caribe tiene una extensión de 1.600 km, mientras la del Pacífico mide 1.300 km; en ambas costas se desarrollan actividades propias del mar, como la portuaria y la pesquera, y desembocan numerosos ríos.



## INSTITUCION EDUCATIVA TECNICA “AMBIENTAL COMBEIMA”

Resolución de Reconocimiento No 00002530 del 26 de Octubre de 2016 de la  
Secretaría de Educación Municipal  
NIT. No. 809011406 – 9 DANE 273001004073

### El relieve colombiano

Poco menos de la mitad del territorio colombiano es montañoso. La región montañosa se concentra principalmente al Occidente, y la región plana al oriente.

El sector de los relieves más elevados es el del sistema montañoso andino, conformado por tres grandes cordilleras y dos extensos valles.

Adicionalmente se identifica lo que los geógrafos y cartógrafos llaman el sistema periférico o independiente, que está constituido por formas de relieve que no están conectadas a las cordilleras andinas, sobretodo presentes en las costas caribe y pacífica, y en la región de los llanos. Ejemplos de relieves independientes son la Sierra Nevada de Santa Marta y el Nevado del Ruiz.

### Sistema montañoso andino

La cadena montañosa de los Andes se origina en el sur del continente americano, se ramifica en tres grandes cordilleras que atraviesan el país hasta el norte, para terminar en Venezuela. Estas tres cordilleras están separadas por los valles interandinos, que son territorios de baja altitud, atravesados por grandes ríos, como el río Cauca y el Magdalena. A continuación te presentamos algunas características de cada cordillera.

#### La Cordillera Occidental

Esta cordillera atraviesa los departamentos de Nariño, Cauca, Valle del Cauca, Risaralda y Antioquia. Su mayor altura se localiza en el altiplano nariñense, con los volcanes de Chiles (4.750 m), Cumbal (4.764 m) y Azufral (4.070m).



El volcán del Cumbal localizado en el departamento de Nariño, sobre la Cordillera Occidental, es considerado lugar sagrado para los indígenas de la región.

#### La Cordillera Central

Es la más corta y la más alta de las tres cordilleras. Además es la que más volcanes y páramos posee, tales como el volcán Galeras y el Puracé, y el Páramo de las Papas. Sus mayores elevaciones alcanzan alturas de 3.000 y 5.000 metros. En esta cordillera están las ciudades de Pasto, Cali, Medellín, Ibagué, Armenia, Manizales y Pereira.



## INSTITUCION EDUCATIVA TECNICA "AMBIENTAL COMBEIMA"

Resolución de Reconocimiento No 00002530 del 26 de Octubre de 2016 de la  
Secretaría de Educación Municipal  
NIT. No. 809011406 – 9 DANE 273001004073



La Sierra Nevada del Cocuy o de Chita. El período más favorable para visitarla es entre los meses de diciembre a febrero.

### La Cordillera Oriental

Es la más extensa, ancha y fértil de las tres cordilleras. Atraviesa los departamentos de Cauca, Caquetá, Huila, Tolima, Meta, Cundinamarca, Boyacá, Santander, Norte de Santander, César y La Guajira. En ella están el altiplano cundiboyacense, y los páramos de Chingaza (3.950 m), y Pisba (3.900 m). Su máxima altura la tiene la Sierra Nevada del Cocuy (5.380 m). En ella están las ciudades de Bogotá, Cúcuta y Bucaramanga.

De manera independiente al sistema montañoso de la Cordillera de los Andes, existen sistemas montañosos como la Serranía de Baudó, el Darién, la Sierra Nevada de Santa Marta, las Serranías de Jarara y Macuira, la Sierra de la Macarena y la Serranía de San Jacinto.

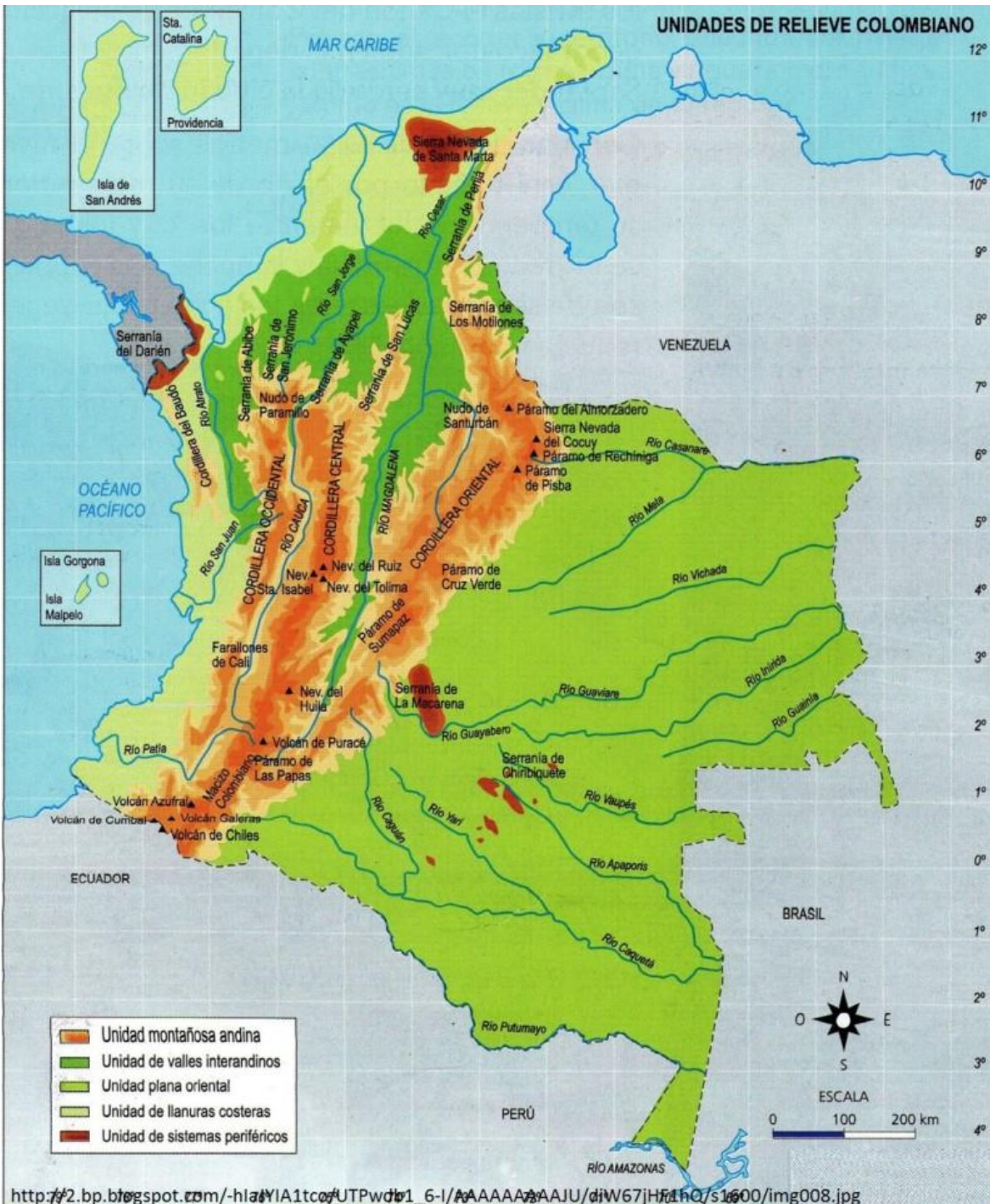
La Serranía de la Macarena es una de las serranías más antiguas del mundo, siendo considerada reserva natural nacional, lo cual protege plantas y animales exclusivos del país.

Además de la Cordillera de los Andes, y de las elevaciones propias del sistema periférico, como parte del relieve colombiano, están las llanuras, que son las regiones planas del territorio, localizadas al oriente y en gran parte del norte y occidente del país.



## INSTITUCION EDUCATIVA TECNICA “AMBIENTAL COMBEIMA”

Resolución de Reconocimiento No 00002530 del 26 de Octubre de 2016 de la  
Secretaría de Educación Municipal  
NIT. No. 809011406 – 9 DANE 273001004073



#### 4. TRANSFERENCIA:

De acuerdo con el mapa físico de Colombia completa la siguiente tabla con las formas de relieve colombiano ubicadas en cada una de las cordilleras.

CORDILLERA OCCIDENTAL	CORDILLERA CENTRAL	CORDILLERA ORIENTAL



## INSTITUCION EDUCATIVA TECNICA "AMBIENTAL COMBEIMA"

Resolución de Reconocimiento No 00002530 del 26 de Octubre de 2016 de la  
Secretaría de Educación Municipal  
NIT. No. 809011406 – 9 DANE 273001004073

Localizo en el mapa de Colombia:

- Sistema montañoso.
- Principales accidentes (llanuras, sierras, nevados, volcanes)
- Ríos importantes, lagunas lagos, océanos).



4. **Escribo en el espacio la palabra que se encuentra entre paréntesis, de acuerdo al concepto dado:**

**(relieve periférico, sistema montañoso, tierras planas y llanuras)**

- a. \_\_\_\_\_ está conformado por sistema de cuatro cordilleras, que hacen parte de la cordillera de los Andes. Estas son: en orden de antigüedad de su formación, la cordillera Central, la cordillera Occidental, la cordillera Oriental y una cuarta cordillera aun en formación, que conocemos con el nombre de serranía del Baudó.
- b. \_\_\_\_\_ son macizos montañosos independientes de \_\_\_\_\_ es la parte de la placa Suramericana y corresponde a las regiones de la Amazonia y la Orinoquia, en donde se encuentran los llanos orientales.

### **INDAGO:**

5. Con ayuda de mi profesor y mis padres respondo:

- a. ¿Cuáles son las principales actividades económicas que pueden desarrollar en las llanuras de Colombia?  
\_\_\_\_\_
- b. ¿Qué importancia tiene para Colombia la llanura de la Orinoquia o Llanos Orientales?  
\_\_\_\_\_
- c. ¿Qué ventajas tiene Colombia al poseer un relieve tan variado?  
\_\_\_\_\_



## INSTITUCION EDUCATIVA TECNICA "AMBIENTAL COMBEIMA"

Resolución de Reconocimiento No 00002530 del 26 de Octubre de 2016 de la  
Secretaría de Educación Municipal  
NIT. No. 809011406 – 9 DANE 273001004073

Busca en la sopa de letras los nombres de los principales ríos de Colombia.

### PRINCIPALES RIOS COLOMBIANOS

D	Ñ	T	P	Z	R	M	V	C	H	B	A	U	D	O	S	I	N	U	Q	AMAZONAS
C	J	G	Y	V	F	L	E	B	L	Ñ	D	Z	U	X	C	I	U	O	G	APOPORIS
G	K	L	C	D	E	X	W	K	S	W	A	S	M	C	M	N	E	H	Z	ATRATO
R	Y	Ñ	Z	F	V	J	L	I	B	J	H	K	F	H	Y	O	R	W	R	BAUDO
M	E	T	A	L	F	L	R	W	X	D	C	P	J	S	L	K	A	C	U	CAQUETA
N	O	F	O	N	W	O	S	A	H	T	I	G	V	W	L	D	I	K	Q	CASANARE
S	T	C	E	L	P	W	P	I	I	U	V	B	U	M	L	W	V	K	T	CAUCA
S	A	A	Z	O	L	S	Y	T	I	I	R	H	N	A	M	O	A	C	E	GUAINIA
V	R	S	P	W	E	V	N	A	U	J	N	A	S	Z	I	J	U	U	T	GUAVIARE
T	T	A	T	P	V	V	T	P	A	M	C	Y	X	B	U	N	G	V	A	INIRIDA
N	A	N	U	Y	W	E	E	W	T	Ñ	A	B	F	N	A	H	I	A	K	MAGDALENA
F	D	A	A	V	U	P	G	X	B	P	U	U	K	Z	N	V	O	A	E	META
Ñ	V	R	G	Q	S	F	O	I	X	J	C	S	L	I	E	G	W	L	Q	PATIA
Z	Ñ	E	A	U	N	Y	P	A	N	X	A	J	K	N	L	C	I	P	N	PUTUMAYO
H	V	C	V	A	A	M	A	Z	O	N	A	S	N	X	A	U	V	V	X	SANJORGE
Z	T	F	Ñ	M	F	J	N	Ñ	J	Z	B	K	Q	T	D	C	N	P	E	SANJUAN
O	Ñ	C	U	W	K	G	G	O	X	E	K	Q	E	J	G	T	A	A	K	SINU
S	L	T	C	V	K	L	R	D	L	I	U	S	R	F	A	X	S	L	O	VAUPES
Q	U	X	J	K	R	G	Y	G	Z	F	H	Y	B	G	M	D	P	R	W	VICHADA
P	Y	A	V	C	E	R	C	O	A	D	I	R	I	N	I	P	B	Z	D	

kokolikoko.com

### 5. VALORACIÓN:

Evalúa tu propio desempeño marcando el recuadro según tu propio cumplimiento

DESEMPEÑO	SIEMPRE	CASI SIEMPRE	ESTA VEZ NO
Participé activamente en el desarrollo de la guía			
Leí detenidamente los textos			
Identifiqué las formas del relieve de Colombia			
Identifiqué los principales ríos colombianos			
Hice uso de mapas			
Realicé las diferentes actividades			
Comprendí la importancia del relieve colombiano			

### REFERENCIAS

<https://www.guao.org/sites/default/files/biblioteca/Ciencias%20Sociales%204%20Segunda%20cartilla.pdf>

<https://imagenestotales.com/mapa-de-colombia/>

<https://www.slideshare.net/OLGALUFI/sociales-04>

<http://sopadeletras.kokolikoko.com/crearsopas.php>





## INSTITUCION EDUCATIVA TECNICA "AMBIENTAL COMBEIMA"

Resolución de Reconocimiento No 00002530 del 26 de Octubre de 2016 de la  
Secretaría de Educación Municipal  
NIT. No. 809011406 – 9 DANE 273001004073

### GUÍA GENERAL DE TRABAJO GRADO 4°

**DOCENTE(S):** MILENA JULIETH PEREZ SANABRIA

**SEDE:** OLAYA HERRERA

**Asignatura:** Ciencias sociales

- **Estándar (s)** Me ubico en el entorno físico utilizando referentes espaciales (izquierda, derecha, puntos cardinales).
- Reconozco los diferentes usos que se le dan a la tierra y a los recursos naturales en mi entorno y en otros (parques naturales, ecoturismo, ganadería, agricultura...).

**Derecho Básico de Aprendizaje (o aprendizaje a desarrollar): Según plan de área y por lo tanto, de aula:** Diferencia las características geográficas del medio urbano y el medio rural, mediante el reconocimiento de la concentración de la población y el uso del suelo, que se da en ellos.

**Tiempo estimado de trabajo para el estudiante (Horas):** 4 Horas

**Trabajo correspondiente a las fechas:** 12 y 15 de mayo de 2020 Hasta (según cronograma establecido)

## REGIONES NATURALES DE COLOMBIA

### 1. METODOLOGÍA:

La presente guía tendrá como objetivo principal el reconocimiento de las regiones naturales de Colombia, como una manera de complementar los conocimientos ya adquiridos relacionados con las generalidades de nuestro país. Se permitirá el afianzamiento de las competencias lectoras ya que principalmente se hace uso de textos para el abordaje de los saberes, de igual manera se debe continuar con el cumplimiento de las instrucciones dadas en cada uno de los enunciados.

### 2. EXPLORACIÓN:

1. Observa los paisajes de las siguientes fotos:



2. Responde:

- ☀ ¿Cuál de los paisajes registrados en estas fotos se parece más al de tu municipio o departamento?
- ☀ ¿A cuál de estos lugares te gustaría viajar? y ¿por qué?
- ☀ Elige dos fotografías y establece ¿en qué se parecen? y ¿en qué se diferencian?



## INSTITUCION EDUCATIVA TECNICA "AMBIENTAL COMBEIMA"

Resolución de Reconocimiento No 00002530 del 26 de Octubre de 2016 de la  
Secretaría de Educación Municipal  
NIT. No. 809011406 – 9 DANE 273001004073

### 3. ESTRUCTURACIÓN:



#### 1. Lean los siguientes textos.

##### ¿Qué son las regiones naturales?

Las regiones naturales son cada una de las zonas geográficas de un país o continente, que cuentan con características similares en cuanto a relieve, clima, vegetación y clases de suelo.

##### ¿Cuáles son las regiones naturales de Colombia?

Colombia cuenta con seis regiones naturales que se definen por las características del relieve, la distancia al mar, el promedio de lluvias y las condiciones del suelo. Esas regiones son: amazonía, andina, Caribe, Insular, Pacífica y orinoquía.

#### 2. Observen el siguiente mapa:





## INSTITUCION EDUCATIVA TECNICA "AMBIENTAL COMBEIMA"

Resolución de Reconocimiento No 00002530 del 26 de Octubre de 2016 de la  
Secretaría de Educación Municipal  
NIT. No. 809011406 – 9 DANE 273001004073

### La Región Andina:

Es la región más poblada y urbanizada, posee uno de los paisajes más encantadores, además de obtener la agitada vida urbana de Bogotá, algunas de sus poblaciones son consagradas al turismo y la mayoría a la vida campesina.

Datos Básicos de la región

Extensión: 282.450 km<sup>2</sup>

Porcentaje de territorio continental que ocupa:  
Tercera parte del territorio nacional.

Cantidad de departamentos que abarca: 17 departamentos.

Límites: Se extiende por toda la parte central del país y en ella convergen los valles formados por los ríos Cauca y Magdalena junto con 3 cordilleras.

Actividad económica: Agrícola, industria, textiles, productos químicos, calzado, bebidas y alimentos.



### La Región Orinoquía

La diversidad de esta región es ampliamente reflejada en la vitalidad de sus habitantes y en la poesía de su folclor, está escasamente poblada en sus zonas más alejadas sin embargo aún se encuentran grupos de indígenas como los Guahibos, los Cuibas, los Sálivas y los Piapocos. Presenta un clima semihúmedo.

Datos Básicos de la región

Extensión: 310.000 km<sup>2</sup>

Porcentaje de territorio continental que ocupa:  
23%

Cantidad de departamentos que abarca: 6 departamentos.

Límites: Los ríos Arauca y Meta, al norte el río Orinoco, al oriente; la cordillera Oriental, al occidente; la región amazónica, al sur.

Actividad Económica: Agricultura, ganadería y minería.





## INSTITUCION EDUCATIVA TECNICA "AMBIENTAL COMBEIMA"

Resolución de Reconocimiento No 00002530 del 26 de Octubre de 2016 de la  
Secretaría de Educación Municipal  
NIT. No. 809011406 – 9 DANE 273001004073

	<h3>La Región Caribe</h3> <p>En la región del Caribe predominan las llanuras, cálidas y húmedas en el occidente y muy secas en el oriente, se encuentra habitada por mulatos y mestizos. Los grupos indígenas que ocuparon esta región se han reducido, sin embargo, en la actualidad se pueden encontrar algunos grupos como los guajiros, los arahuacos y los koguis.</p> <p>Datos Básicos de la región</p> <p>Extensión: 151.118 km<sup>2</sup></p> <p>Porcentaje de territorio continental que ocupa: 9%</p> <p>Cantidad de departamentos que abarca: 7 departamentos</p> <p>Límites: Desde las costas del mar Caribe hasta las estribaciones de la cordillera de los Andes.</p> <p>Actividad económica: Agricultura, ganadería, minería y turismo.</p>
--	---

<h3>La Región Pacífica</h3> <p>Esta región se caracteriza por el esplendor de su naturaleza y la diversidad de gentes y costumbres, la raza predominante es la negra, el resto de la población está constituida por mestizos, mulatos y zambos, que es la mezcla entre negros e indígenas, aún se encuentran tribus como los Catíos, los Cunas, los Chocoos, los Cítares y los Cholos quienes lamentablemente viven en condiciones de abandono. Datos Básicos de la región</p> <p>Extensión: 83.170 km<sup>2</sup>. Porcentaje de territorio continental que ocupa: 6%. Cantidad de departamentos que abarca: 3 departamentos.</p> <p>Límites: Desde el Golfo de Urabá y la frontera con Panamá al norte hasta la frontera con Ecuador al sur y desde la cordillera Occidental hasta el litoral Pacífico al Occidente</p> <p>Actividad Económica: Agricultura, minería, explotación forestal.</p>	
---	--



## INSTITUCION EDUCATIVA TECNICA "AMBIENTAL COMBEIMA"

Resolución de Reconocimiento No 00002530 del 26 de Octubre de 2016 de la  
Secretaría de Educación Municipal  
NIT. No. 809011406 – 9 DANE 273001004073

	<h3>La Región Amazónica</h3> <p>En esta región predomina el clima cálido y húmedo, es una de la menos habitada y la mayoría de la población es indígena entre ellas se distinguen los nukaks, huitotos, yaguas, tucanos, ticunas, camsás e ingas entre otros</p> <p>Se calcula que en su ecosistema viven más de 800 especies de aves, 160 mamíferos, diversos tipos de lagartos y ofidios e innumerables variedades de peces.</p> <p>Datos Básicos de la región</p> <p>Extensión: 315.000 km<sup>2</sup></p> <p>Porcentaje de territorio continental que ocupa: 29%. Cantidad de departamentos que abarcan: 6 departamentos.</p> <p>Límites: Con la Orinoquía al norte; con los ríos Putumayo y Amazonas al sur; con Brasil al oriente y con la cordillera Oriental al occidente.</p> <p>Actividad Económica: Agricultura, minería y pesca.</p>
--	--

<h3>La Región Insular</h3> <p>Es una región muy diversa ya que está conformada por islas en los dos océanos: el archipiélago de San Andrés y Providencia, en el mar Caribe y el Archipiélago de Gorgona y Gorgonilla y el Islote de Malpelo en el océano Pacífico. Esta región se caracteriza por sus periodos de lluvia definidos y su clima seco.</p> <p>Datos Básicos de la región</p> <p>Comprenden 2 tipos de islas: Continentales y Oceánicas.</p> <p>Extensión: 52.5 km<sup>2</sup></p> <p>Actividad Económica: Turismo, complejos hoteleros, comercio.</p>	
--	--



## INSTITUCION EDUCATIVA TECNICA "AMBIENTAL COMBEIMA"

Resolución de Reconocimiento No 00002530 del 26 de Octubre de 2016 de la  
Secretaría de Educación Municipal  
NIT. No. 809011406 – 9 DANE 273001004073

### 4. TRANSFERENCIA:

Relacione la región natural con la ubicación y el mapa, utilice el número

① REGION ANDINA

Norte de Colombia



② REGION PACIFICA

Oriente de Colombia



③ REGION INSULAR

Centro de Colombia



④ REGION AMAZONICA

Occidente de Colombia



⑤ REGION ORINOQUIA

Sur de Colombia



⑥ REGION CARIBE

Océano Pacífico y Caribe



2- Dibuje un paisaje perteneciente a cada región natural de Colombia.



3- Encuentre en la sopa de letras los nombres de las regiones naturales de Colombia.

#### REGIONES NATURALES DE COLOMBIA

T	R	A	L	U	S	N	I	U	M	AMAZONIA
B	X	D	G	F	Z	M	I	Q	C	ANDINA
J	M	P	A	C	I	F	I	C	A	CARIBE
E	M	Z	W	C	L	A	I	L	W	INSULAR
R	J	Ñ	S	T	F	O	K	J	L	ORINOQUIA
Q	E	L	I	A	N	D	I	N	A	PACIFICA
I	R	W	D	C	A	R	I	B	E	
M	O	R	I	N	O	Q	U	I	A	
S	L	T	Q	B	T	M	E	O	Z	
P	V	A	I	N	O	Z	A	M	A	




## INSTITUCION EDUCATIVA TECNICA "AMBIENTAL COMBEIMA"

Resolución de Reconocimiento No 00002530 del 26 de Octubre de 2016 de la  
Secretaría de Educación Municipal  
NIT. No. 809011406 – 9 DANE 273001004073

### 1. Realizo el siguiente Crucigrama

1. Región más plana
2. Región costera del occidente
3. Región selvática
4. Comprende las islas colombiana
5. Contiene las tres cordilleras
6. Región costera del norte



### 3. Completa:

- a. Las regiones naturales de Colombia son: \_\_\_\_\_, \_\_\_\_\_, \_\_\_\_\_  
\_\_\_\_\_, \_\_\_\_\_, \_\_\_\_\_
- b. la región Caribe está ubicada al \_\_\_\_\_, su clima \_\_\_\_\_ algunos de los departamentos que pertenecen a esta región son:  
\_\_\_\_\_
- c. la región Pacífica está ubicada al \_\_\_\_\_, su clima es \_\_\_\_\_, algunos de los departamentos que pertenecen a esta región son: \_\_\_\_\_
- d. la región Andina está ubicada al \_\_\_\_\_, su clima es \_\_\_\_\_ algunos de los departamentos que pertenecen a esta región son: \_\_\_\_\_
- e. la región Amazónica está ubicada al \_\_\_\_\_, su clima es \_\_\_\_\_, algunos de los departamentos que pertenecen a esta región son:  
\_\_\_\_\_
- f. la región insular está integrada por las \_\_\_\_\_ que se clasifican en: \_\_\_\_\_ y \_\_\_\_\_, su clima es \_\_\_\_\_, algunos de los departamentos que pertenecen a esta región son:  
\_\_\_\_\_

## C ACTIVIDADES DE APLICACIÓN

1. Con la ayuda de mis papitos averiguo dos alimentos característicos de cada región y los escribo en mi cuaderno.

---

---

---

---



## INSTITUCION EDUCATIVA TECNICA "AMBIENTAL COMBEIMA"

Resolución de Reconocimiento No 00002530 del 26 de Octubre de 2016 de la  
Secretaría de Educación Municipal  
NIT. No. 809011406 – 9 DANE 273001004073

### 5. VALORACIÓN:

Evalúa tu propio desempeño marcando el recuadro según tu propio cumplimiento

DESEMPEÑO	SIEMPRE	CASI SIEMPRE	ESTA VEZ NO
Participé activamente en el desarrollo de la guía			
Leí detenidamente los textos			
Identifiqué las regiones naturales de Colombia			
Reconozco características de cada una de las regiones naturales de Colombia			
Reconozco los departamentos que comprenden cada región natural de Colombia			
Realicé las diferentes actividades			
Comprendí por qué existen las regiones naturales de Colombia			

### REFERENCIAS

<https://www.guao.org/sites/default/files/biblioteca/Ciencias%20Sociales%204%20Segunda%20cartilla.pdf>

[http://clayanu76.blogspot.com/p/ciencias-sociales\\_67.html](http://clayanu76.blogspot.com/p/ciencias-sociales_67.html)

<https://nuestracolombia.wordpress.com/regiones-naturales-de-colombia/>

<file:///C:/Users/Milena%20Perez/Downloads/OlgaLuciayLeonorSociales4.pdf>

[https://es.slideshare.net/mdaniela\\_vega/atlas-de-colombia](https://es.slideshare.net/mdaniela_vega/atlas-de-colombia)